


PIRAMIDI

PROBLEMI

E...

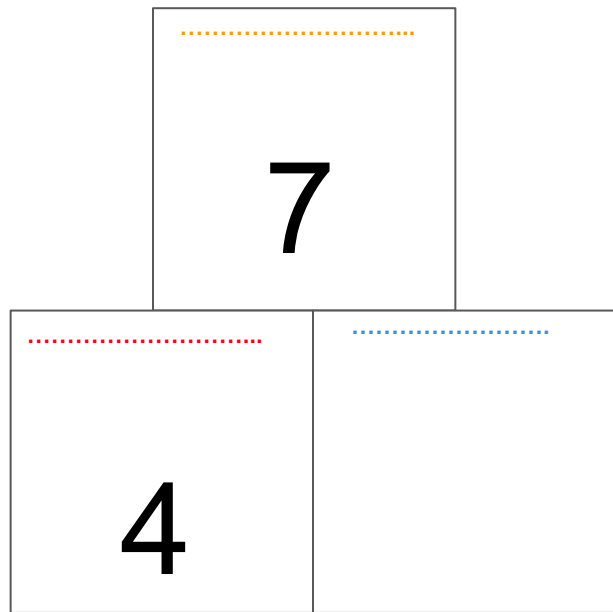


PAOLO HA 7 FIGURINE, MARCO NE HA 4.

P ○○○○○○○

1 2 3 4 5 6 7

M ○○○○



CONFRONTIAMO

Chi ha **IN PIÙ?** _____

Chi ha **IN MENO?** _____



COSA SO?

Conosco la quantità **MAGGIORE?**

Conosco la quantità **MINORE?**

Conosco la **DIFFERENZA?**

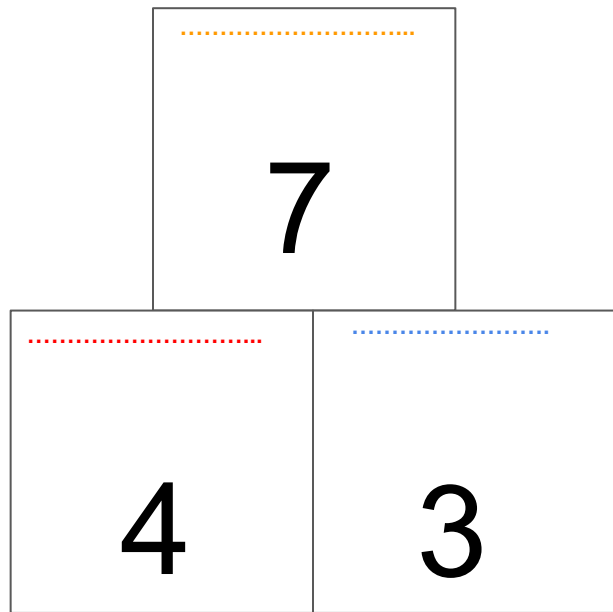
$$7 - 4 =$$

PAOLO HA 7 FIGURINE, MARCO NE HA 4.

P ○○○○○○○

1 2 3 4 5 6 7

M ○○○○



CONFRONTIAMO

Chi ha **IN PIÙ?** _____

Chi ha **IN MENO?** _____

COSA SO?

Conosco la quantità **MAGGIORE?**

Conosco la quantità **MINORE?**

Conosco la **DIFFERENZA?**



$$7 - 4 = 3$$

DANIELA HA 8 ARANCE, SARA NE HA 6.

D ○○○○○○○○

1 2 3 4 5 6 7 8

S ○○○○○○

CONFRONTIAMO

Chi ha **IN PIÙ?** _____

Chi ha **IN MENO?** _____

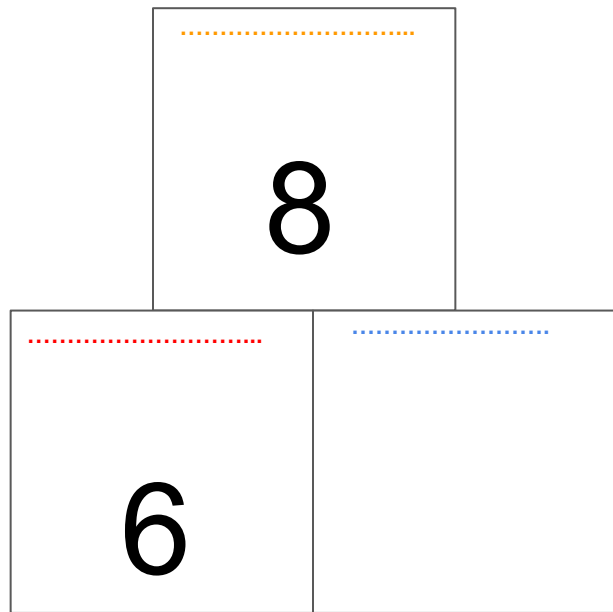
COSA SO?



Conosco la quantità **MAGGIORE?**

Conosco la quantità **MINORE?**

Conosco la **DIFFERENZA?**



$$8 - 6 =$$

DANIELA HA 8 ARANCE, SARA NE HA 6.

D ○ ○ ○ ○ ○ ○ ○ ○

1 2 3 4 5 6 7 8

S ○ ○ ○ ○ ○ ○

CONFRONTIAMO

Chi ha **IN PIÙ?** _____

Chi ha **IN MENO?** _____

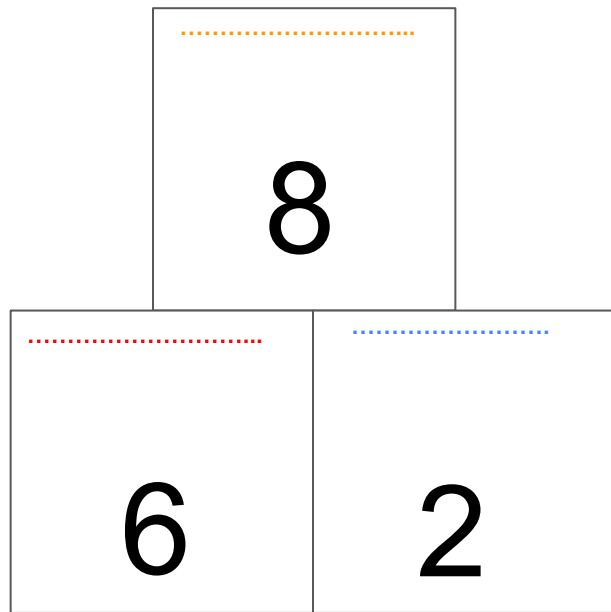
COSA SO?



Conosco la quantità **MAGGIORE?**

Conosco la quantità **MINORE?**

Conosco la **DIFFERENZA?**



$$8 - 6 = 2$$

SIENA 25 MAGGIO 2020

TROVA LA DIFFERENZA

PAOLO HA 7 FIGURINE,

MARCO NE HA 4.

P 00000000

|||
M 0000

$$7 - 4 = 3$$

DANIELA HA 8 ARANCE.

SARA NE HA 6.

D 00000000

|||||
S 000000

$$8 - 6 = 2$$

GIULIO HA 3 ANNI, FLAVIA NE HA 6.

G ○ ○ ○

1 2 3 4 5 6

F ○ ○ ○ ○ ○ ○



COSA SO?

Conosco la quantità
MAGGIORE?

Conosco la quantità
MINORE?

Conosco la
DIFFERENZA?

CONFRONTIAMO

Chi ha **IN PIÙ?** _____

Chi ha **IN MENO?** _____

.....	
.....

GIULIO HA 3 ANNI, FLAVIA NE HA 6.

G ○ ○ ○

1 2 3 4 5 6

F ○ ○ ○ ○ ○ ○



COSA SO?

Conosco la quantità **MAGGIORE?**

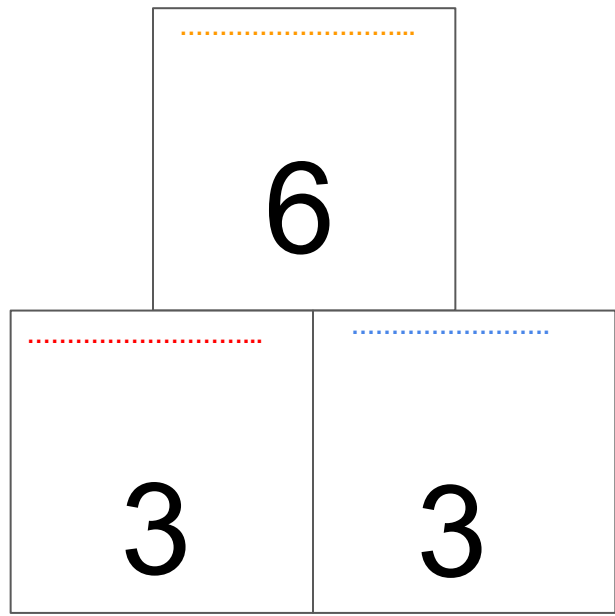
Conosco la quantità **MINORE?**

Conosco la **DIFFERENZA?**

CONFRONTIAMO

Chi ha **IN PIÙ?** _____

Chi ha **IN MENO?** _____



$$6 - 3 = 3$$

LIA HA 7 ROSE, MARA NE HA 5.

L ○○○○○○○

1 2 3 4 5 6 7

M ○○○○○



COSA SO?

Conosco la quantità
MAGGIORE?


Conosco la quantità
MINORE?

Conosco la
DIFFERENZA?

CONFRONTIAMO

Chi ha **IN PIÙ?** _____

Chi ha **IN MENO?** _____



LIA HA 7 ROSE, MARA NE HA 5.

L ○○○○○○○

1 2 3 4 5 6 7

M ○○○○○



COSA SO?

Conosco la quantità
MAGGIORE?

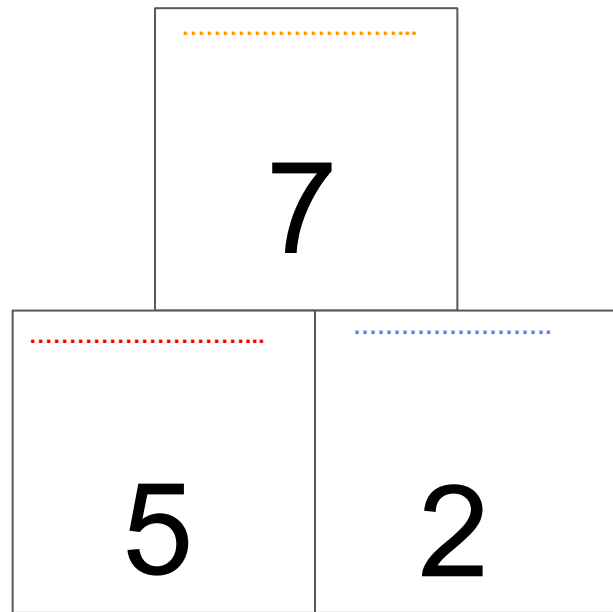
Conosco la quantità
MINORE?

Conosco la
DIFFERENZA?

CONFRONTIAMO

Chi ha **IN PIÙ?** _____

Chi ha **IN MENO?** _____



$$7 - 5 = 2$$

CI SONO 8 PECORE NERE, 5 PECORE BIANCHE

N ○○○○○○○○

1 2 3 4 5 6 7 8

B ○○○○

CONFRONTIAMO

Chi ha **IN PIÙ?** _____

Chi ha **IN MENO?** _____

COSA SO?



Conosco la quantità
MAGGIORE?

Conosco la quantità
MINORE?

Conosco la
DIFFERENZA?

.....	
.....

CI SONO 8 PECORE NERE, 5 PECORE BIANCHE

N ○ ○ ○ ○ ○ ○ ○ ○

1 2 3 4 5 6 7 8

B ○ ○ ○ ○ ○

CONFRONTIAMO

Chi ha **IN PIÙ?** _____

Chi ha **IN MENO?** _____

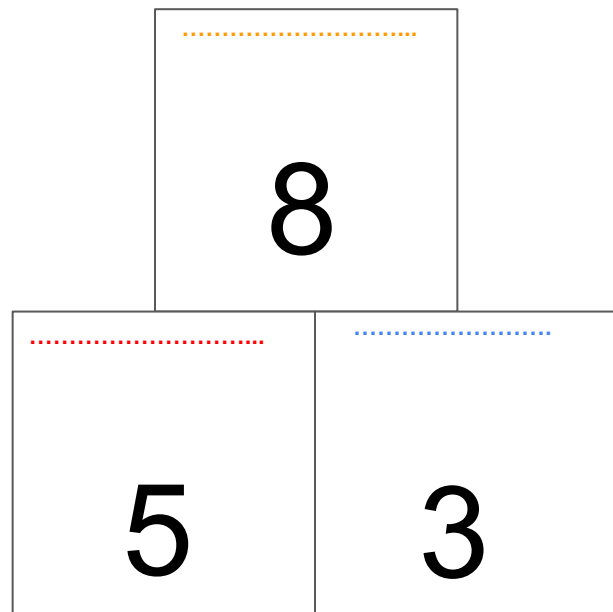
COSA SO?



Conosco la quantità **MAGGIORE?**

Conosco la quantità **MINORE?**

Conosco la **DIFFERENZA?**



$$8 - 5 = 3$$

CI SONO 4 MASCHI E 10 FEMMINE.

M ○○○○

1 2 3 4 5 6 7 8 9 10

F ○○○○○○○○○○○

COSA SO?



Conosco la quantità
MAGGIORE?

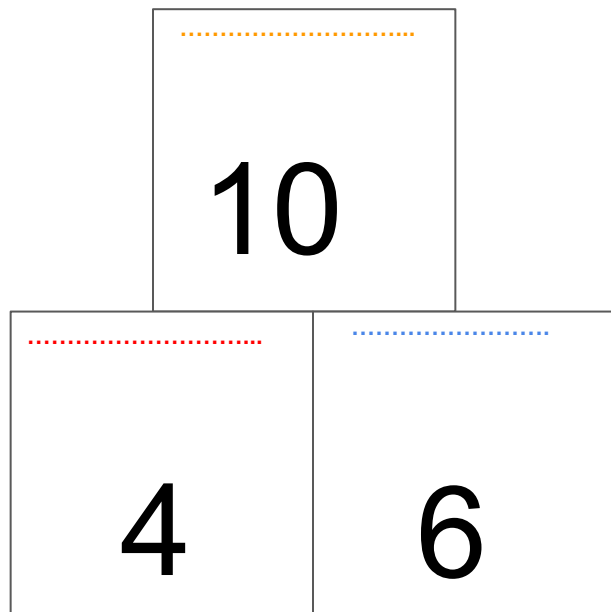
Conosco la quantità
MINORE?

Conosco la
DIFFERENZA?

CONFRONTIAMO

Chi ha **IN PIÙ?** _____

Chi ha **IN MENO?** _____



$$10 - 4 = 6$$

ANDREA HA 7 EURO, MONICA 9



1 2 3 4 5 6 7 8 9



COSA SO?



Conosco la quantità **MAGGIORE?**

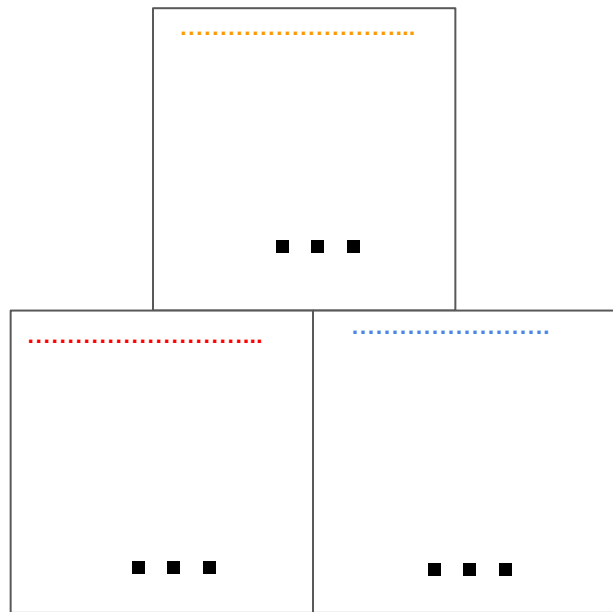
Conosco la quantità **MINORE?**

Conosco la **DIFFERENZA?**

CONFRONTIAMO

Chi ha **IN PIÙ?** _____

Chi ha **IN MENO?** _____



CI SONO 10 GATTI E 8 CANI



1 2 3 4 5 6 7 8 9 10



COSA SO?

Conosco la quantità
MAGGIORE?

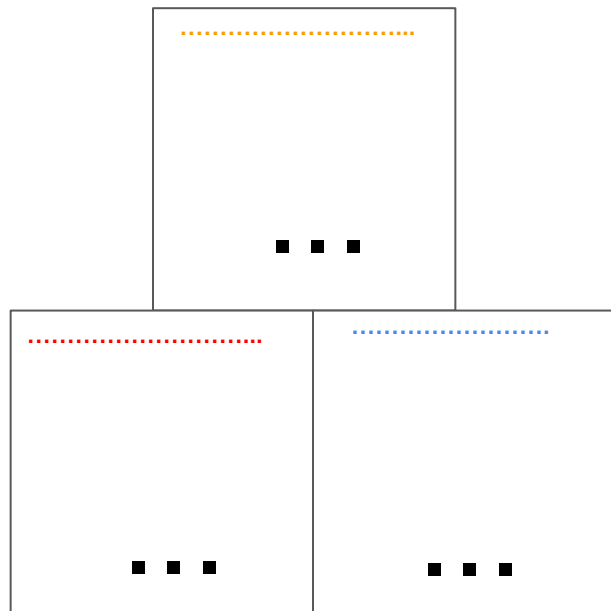
Conosco la quantità
MINORE?

Conosco la
DIFFERENZA?

CONFRONTIAMO

Chi ha **IN PIÙ?** _____

Chi ha **IN MENO?** _____



CI SONO 4 GELATI E 6 BAMBINI

G ○ ○ ○ ○

1 2 3 4 5 6

B ○ ○ ○ ○ ○ ○

CONFRONTIAMO

Chi ha **IN PIÙ?** _____

Chi ha **IN MENO?** _____

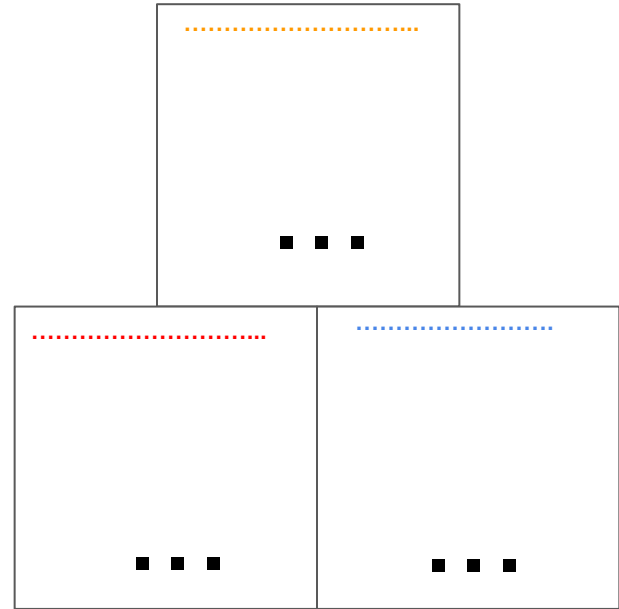
COSA SO?



Conosco la quantità
MAGGIORE?

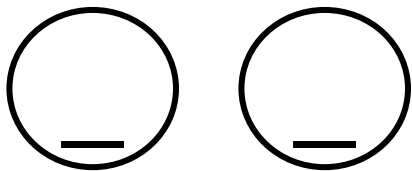
Conosco la quantità
MINORE?

Conosco la
DIFFERENZA?



... - ... = ...

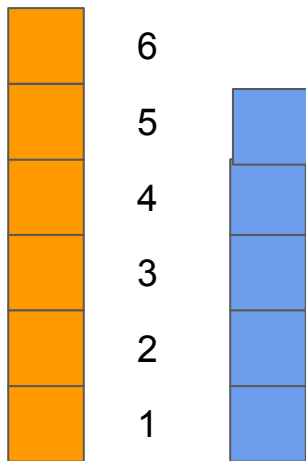
CI SONO 6 SEDIE PER 5 PERSONE



CONFRONTIAMO

Chi ha **IN PIÙ?** _____

Chi ha **IN MENO?** _____



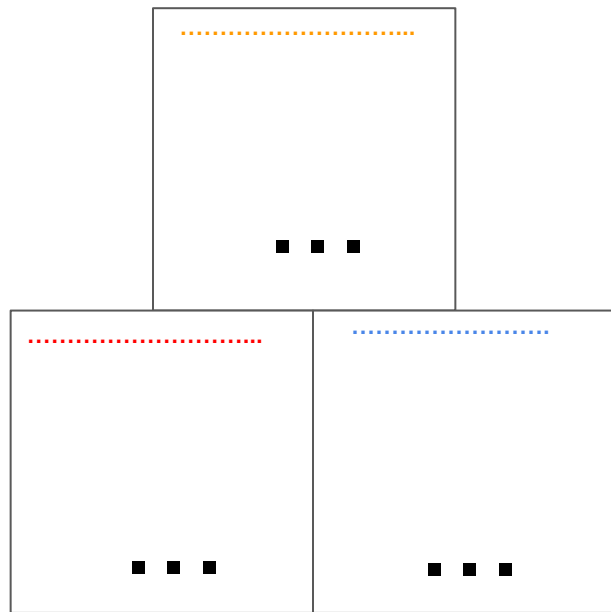
COSA SO?




Conosco la quantità **MAGGIORE?**

Conosco la quantità **MINORE?**

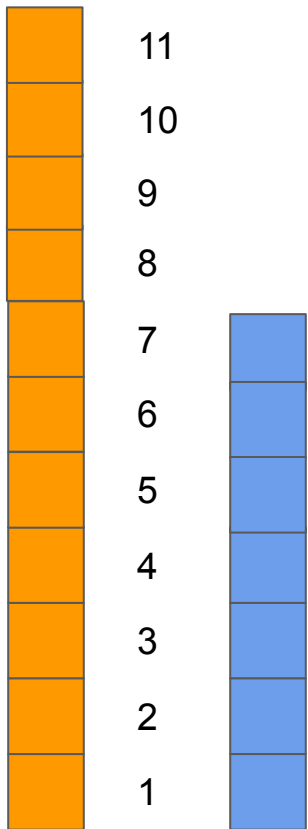
Conosco la **DIFFERENZA?**



?



JACOPO HA 11 ANNI, DARIA 7



CONFRONTIAMO

Chi ha **IN PIÙ?** _____

Chi ha **IN MENO?** _____

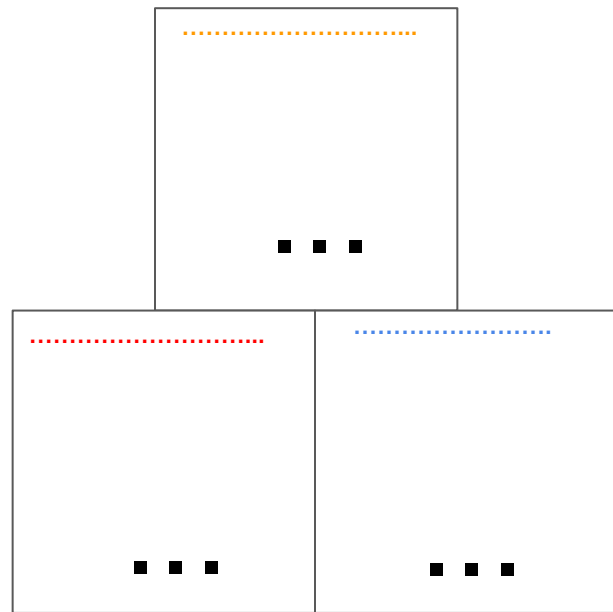
COSA SO?




Conosco la quantità **MAGGIORE?**

Conosco la quantità **MINORE?**

Conosco la **DIFFERENZA?**



?



DANIEL HA 2 EURO, SERENA NE HA 12.

CONFRONTIAMO

Chi ha **IN PIÙ?** _____

Chi ha **IN MENO?** _____

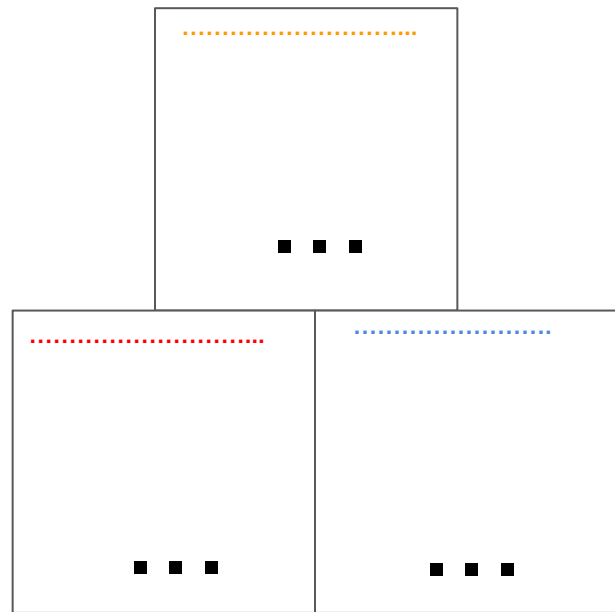
COSA SO?





Conosco la quantità **MAGGIORE?**

Conosco la quantità **MINORE?**

Conosco la **DIFFERENZA?**



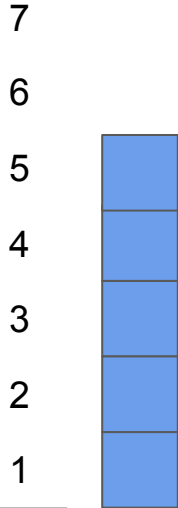
I MASCHI SONO 5. LE FEMMINE 2 IN PIÙ



CONFRONTIAMO

Chi ha **IN PIÙ?** _____

Chi ha **IN MENO?** _____



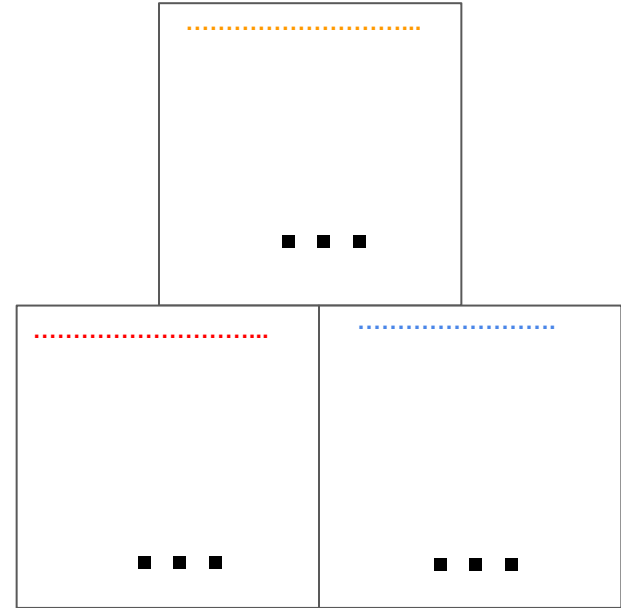
COSA SO?



Conosco la quantità **MAGGIORE?**



Conosco la quantità **MINORE?**

Conosco la **DIFFERENZA?**

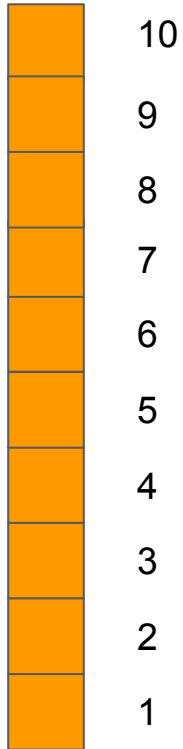



$$\dots + \dots = \dots$$





LORENZO HA 10 ANNI, 8 IN PIÙ' DI DAMIANO



CONFRONTIAMO

Chi ha **IN PIÙ'** _____

Chi ha **IN MENO'** _____

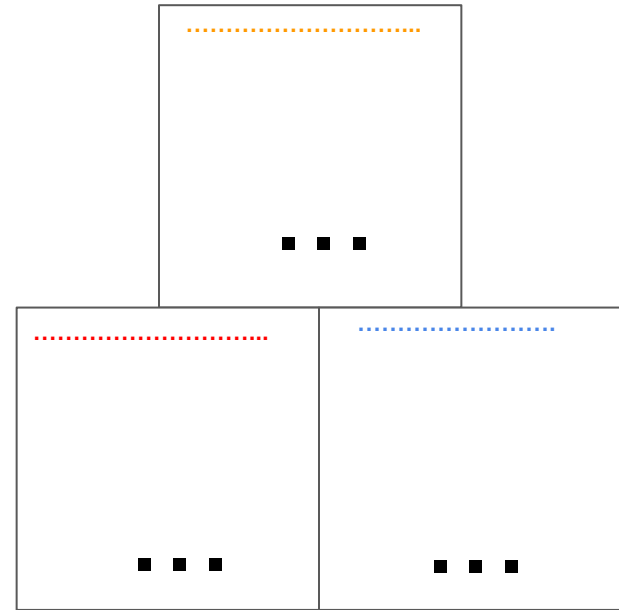
COSA SO?



Conosco la quantità **MAGGIORE'**

Conosco la quantità **MINORE'**

Conosco la **DIFFERENZA'**



BRAVI! AVETE FATTO DAVVERO
... LA DIFFERENZA!



Maestro Roberto