

Territorio e zone climatiche italiane

1. PUNTI CARDINALI

Riempi gli spazi a lato della carta. Scrivi dentro e fuori i triangoli i seguenti nomi:
EST - MERIDIONE - NORD - OCCIDENTE - ORIENTE - OVEST - SETTENTRIONE - SUD

Punti

 su 4

2. CLIMA

Sulla carta ci sono i contorni delle zone climatiche italiane. Colorale usando colori diversi.
ZONA ADRIATICA - ZONA ALPINA - ZONA APPENNINICA - ZONA LIGURE/TIRRENICA - ZONA MEDITERRANEA - ZONA PADANO/VENETA

Punti

 su 6

3. TERRITORIO

Completa la carta inserendo i seguenti nomi negli spazi bianchi (puoi anche abbreviare, quando serve): ALPI OCCIDENTALI - ALPI CENTRALI - ALPI ORIENTALI - APPENNINI SETTENTRIONALI - APPENNINI CENTRALI - APPENNINI MERIDIONALI - MAR ADRIATICO - MAR IONIO - MAR LIGURE - MAR TIRRENO - SICILIA - SARDEGNA

Punti

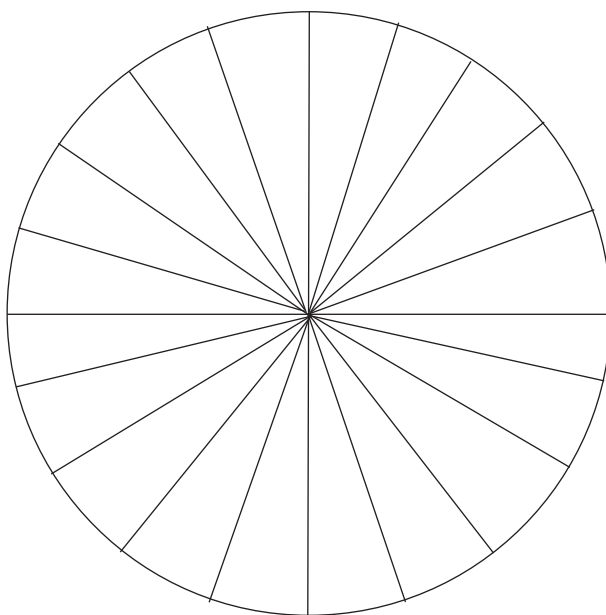
 su 6

Tabelle e grafici

1. AREOGRAMMA

Leggi la frase che segue e rappresenta i dati nell'areogramma

Il territorio della Toscana è soprattutto collinare. Le colline coprono il 65% del suo territorio. Ci sono poche pianure, circa il 10 per cento della regione. Il resto del territorio è rappresentato dalle montagne dell'Appennino (25%).



Punti



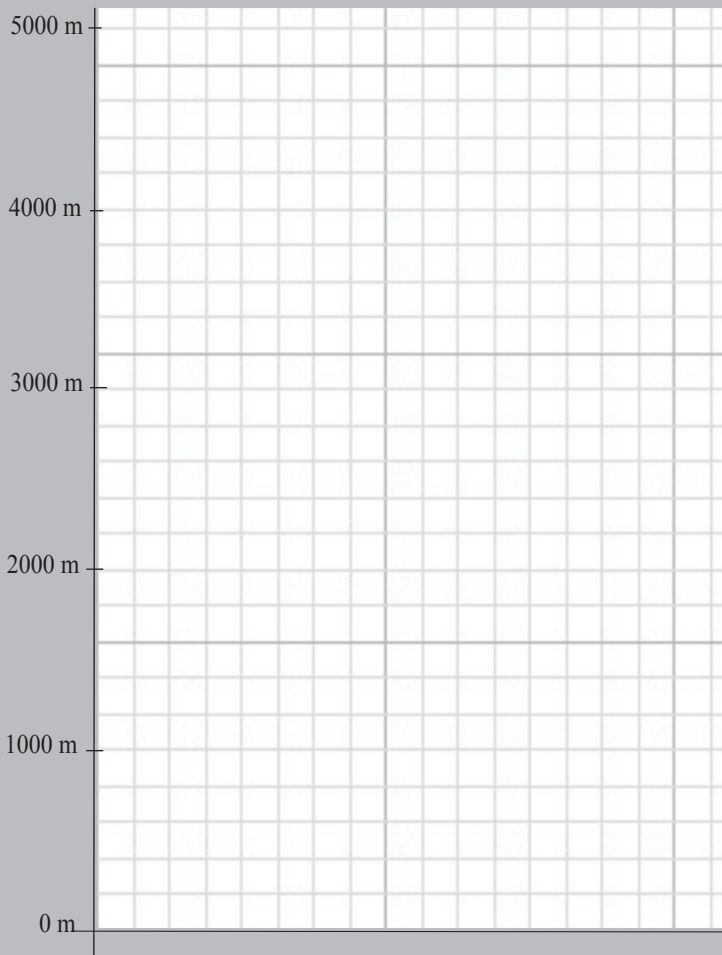
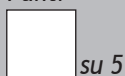
Maestro Roby e maestra Tatiana

2. ISTOGRAMMA

Leggi la frase che segue e crea un istogramma

Le tre montagne più alte d'Italia si trovano tutte in Val d'Aosta e sono: il Monte Bianco, che arriva a circa 4800 metri, il Monte Rosa a poco più di 4600 metri e il Cervino, che tocca quasi 4500 metri.


Punti



3. TABELLA

Leggi la frase che segue e realizza una tabella.

Le profondità massime dei mari italiani sono queste: il mar Ionio arriva a 4004 metri; il Tirreno raggiunge 3731 metri; l'Adriatico 1205 e il Ligure 2830.



Punti

